

## التدريب الثاني



١ صوب ما تحته خط :

- (١) تُعد السويد من أعلى دول قارة آسيا في نسبة الإنفاق على التعليم.  
(٢) تقل معدلات الأطباء والمرضات بدول شرق قارة آسيا عن المعدلات العالمية.  
(٣) تنتشر العديد من الأمراض مثل الملاريا بالمناطق الباردة بقارة آسيا.  
(.....)  
(.....)  
(.....)

٢ ما تقييمك لمصادقية كل عبارة مما يأتي ... ؟ مع ذكر السبب في الحالتين :

(١) تُعد قارتي آسيا وأوروبا من أغنى قارات العالم ثقافيًا وتاريخيًا.

(٢) الانحناء المتبادل أحد العادات والتقاليد التي يتميز بها الشعب الإنجليزي.

٣ بم تفسر : تعانى بعض دول قارة آسيا من انتشار بعض الأمراض ؟

٤ دلل على صحة العبارات التالية :

(١) شيوع بعض الأمراض بقارة أوروبا.

(٢) توجد بقارة آسيا بعض الأمراض التي تنتشر عن طريق الغذاء والماء.

(٣) تعتبر الأكلات الوطنية بقارتي آسيا وأوروبا أحد مظاهر التراث والثقافة بهما.

(٤) تمثل الحرف التراثية جزء مهم من الهوية الثقافية لعدة دول بقارة آسيا.

٥ وضع :

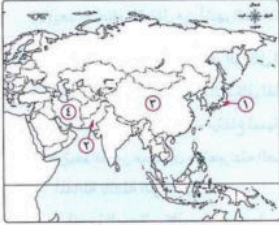
(١) مظاهر اهتمام دول قارتي آسيا وأوروبا بتعليم كبار السن.

(٢) جهود كل من قارتي آسيا وأوروبا للحد من انتشار الأمراض.

١) أمامك خريطة لقارة آسيا ،

اكتب مدلول الأرقام التي عليها :

- (١) أولى دول العالم في نسبة فئة كبار السن .....
- (٢) دولة تستخدم اللغة الأردية كلغة رسمية .....
- (٣) دولة تشتهر بصناعة الحرير اليدوى .....
- (٤) دولة تشتهر بصناعة السجاد اليدوى .....



٢) أمامك خريطة لقارة أوروبا ،

اكتب مدلول الأرقام التي عليها :

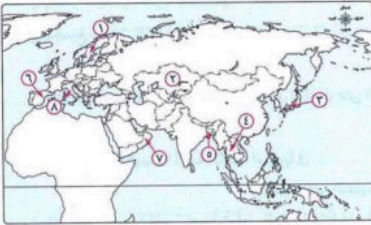
- (١) دولة تشتهر بصناعة الزجاج .....
- (٢) من أعلى الدول الأوروبية إنفاقاً على التعليم .....
- (٣) دولة تنتشر بها صناعة الفخار اليدوى .....
- (٤) دولة تشتهر بالموسيقى التقليدية .....



٣) بالاستعانة بالخريطة التي أمامك،

أجب عما يأتي بكتابة الرقم المناسب :

- (١) ثاني الدول عالمياً في نسبة فئة كبار السن .....
- (٢) دولة أعلنت انفصالها عن باكستان .....
- (٣) أحد أكبر الدول الأوروبية في نسبة الإنفاق العام على التعليم .....
- (٤) دولة آسيوية تحتل المرتبة الأولى في نسبة الإنفاق العام على التعليم .....



٢ أكمل ما يأتي بكلمات مناسبة :

- (١) تنتشر في المناطق الاستوائية بقارة آسيا بعض الأمراض منها .....
- (٢) يُعد الاخلاء المتبادل من أشهر العادات والتقاليد في بعض الدول الآسيوية مثل دولتي ..... و .....

٣ اختر الإجابة الصحيحة من بين البدائل التالية :

- (١) يدل تصنيف قاعدة الهرم السكاني لقارتي آسيا وأوروبا على .....
- (٢) انخفاض نسبة الذكور - ارتفاع نسبة فئة كبار السن - امتلاكهما لقوة عمل ضخمة - انخفاض معدل المواليد
- (٣) ارتبط ظهور مضمون ما تعبر عنه الصورة
- المقابلة بالفئة التي تمثل .....
- قاعدة الهرم السكاني - سن العمل - نسبة الإناث - قمة الهرم السكاني
- (٤) يمكن التعرف على نسب العاملين في الأنشطة المختلفة لقارتي آسيا وأوروبا
- من خلال دراسة ..... ( التركيب العمري - التركيب النوعي - التركيب الاقتصادي - الهرم السكاني )
- (٥) أي من الأنشطة الاقتصادية التالية يأتي في المرتبة الأولى من حيث نسبة العاملين به في قارة أوروبا ؟ .....
- ( الزراعة - الصناعة - التجارة - السياحة )
- (٥) أي من الأشكال الآتية يشير إلى نسبة فئة العاملين في النشاط الزراعي بقارة آسيا ؟ .....



الاقتصاد الفضي

العاملين بالنشاط  
الزراعي

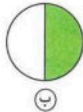
العاملين بالأنشطة  
الاقتصادية الأخرى



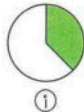
(أ)



(ب)



(ج)



(د)

- (٦) اللغة الرسمية لدولة باكستان .....
- (٧) جميع اللغات التالية تنتشر كلغات رسمية بقارة آسيا ويخرج عنها .....
- ( الفارسية - الصينية - الهندية - الألمانية )
- (٨) أي من الدول التالية تعد الأقل نسبيًا في الإنفاق على التعليم بقارة آسيا ؟ .....
- ( عمان - الكويت - اليابان - إندونيسيا )
- (٩) تحتل دولة الكويت المرتبة الثانية آسيويًا في .....
- ( الإنفاق على التعليم - نسبة كبار السن - عدد السكان - نسبة صغار السن )
- (١٠) اللغة الرسمية المستخدمة في أولى الدول إنفاقًا على التعليم بقارة آسيا .....
- ( الهندية - الأردنية - العربية - الصينية )

(١١) أشهر الفنون الموسيقية التقليدية في أوروبا هي الموسيقى .....

( الأيرلندية - النرويجية - الفرنسية - الإسبانية )

- ٤ اكتب كلمة (صواب) أمام العبارة الصحيحة، وكلمة (خطأ) أمام العبارة غير الصحيحة، مع التصويب :
- ( ) (١) يتسم التركيب النوعي للسكان بقارة آسيا بالتوازن النسبي بين الذكور والإناث.
- ( ) (٢) قاعدة الهرم السكاني بقارة أوروبا أكثر ضيقاً من قاعدة الهرم السكاني بقارة آسيا.
- ( ) (٣) يزداد عدد الأطفال بقارة آسيا مقارنة بقارة أوروبا بحوالي عشرة أضعاف.
- ( ) (٤) ترتفع نسبة فئة صغار السن عن فئة سن العمل في قارة أوروبا.
- ( ) (٥) تحتل اليابان المرتبة الأولى عالمياً من حيث نسبة فئة كبار السن.
- ( ) (٦) تتساوى قارتي آسيا وأوروبا في نسبة العاملين بالنشاط الصناعي.
- ( ) (٧) يوجد ثلث إجمالي لغات العالم في قارة آسيا.
- ( ) (٨) أسهمت اللغة العربية في ثراء التراث الإسلامي والعربي.
- ( ) (٩) استخدمت اللغة كأساس في ترسيم الحدود السياسية لدول وسط أوروبا بعد الحرب العالمية الأولى .
- ( ) (١٠) على الرغم من قلة التنوع اللغوي بقارة آسيا إلا أنها تضم لغات ذات تأثير عالمي.
- ( ) (١١) تحتل دولة إندونيسيا المرتبة الأولى بقارة آسيا في نسبة الإيفاق العام على التعليم.
- ( ) (١٢) قدمت دول أوروبا وآسيا دورات تعلم لكبار السن لإكسابهم الثقة الذاتية وتبادل الخبرات.
- ( ) (١٣) تتمتع دول وسط وجنوب آسيا بمعدلات أطباء وممرضات تفوق المعدلات العالمية.
- ( ) (١٤) يزيد ضعف البنية التحتية الصحية بقارة آسيا من خطر تفشي الأمراض.
- ( ) (١٥) يعد السوشي من أشهر الأكلات الوطنية في بعض دول قارة أوروبا.
- ( ) (١٦) تنتشر الموسيقى التقليدية التي تعتمد على الآلات الوترية في اليابان.
- ( ) (١٧) تتميز الهند بالرقصات الفلكلورية بينما تتميز إيطاليا بالرقصات الكلاسيكية.
- ( ) (١٨) من أشهر الحرف التراثية في إيران والهند صناعة السجاد اليدوي .
- ( ) (١٩) تمثل صناعة الزجاج أحد الحرف التراثية التي تنتشر في دولة إيطاليا بأوروبا.

٥ صوب ما تحته خط :

- (١) من المتوقع أن تزداد نسبة فئة كبار السن بقارة أوروبا بحلول عام ٢٠٥٠م إلى ربع سكان القارة. (.....)
- (٢) من الأمراض المنتشرة بقارة آسيا فيروس نقص المناعة البشرية المعروف باسم الكوليرا. (.....)
- (٣) من الأمراض التي تنتقل عن طريق الماء والغذاء بقارة آسيا الملاريا. (.....)

- (٤) يُعد مرض السكري من أكثر الأمراض انتشارًا بالمناطق الاستوائية بقارة آسيا. (.....)
- (٥) يُعد الانحناء المتبادل من العادات والتقاليد المنتشرة في اليابان وكوريا الجنوبية بأوروبا. (.....)

٦ حد الدول التي تشتهر بالصناعات التالية في قارتي آسيا وأوروبا :

- (١) الفخار اليدوي : .....
- (٢) الرسم على الخشب : .....
- (٣) الحرير اليدوي : .....
- (٤) الزجاج : .....

٧ ما المقصود بـ: الاقتصاد الفضي ؟

٨ بم تفسر... ؟

(١) ارتفاع نسبة الذكور في دول الخليج العربي مقارنة بنسبة الإناث.

(٢) تزداد نسبة الإناث عن الذكور بقارة أوروبا منذ عام ١٩٥٠م حتى الآن.

(٣) تتسم قاعدة الهرم السكاني بقارتي آسيا وأوروبا بالضيقة.

(٤) ارتفاع نسبة صغار السن في قارة آسيا مقارنة بقارة أوروبا.

(٥) عدد الأطفال في قارة آسيا عشرة أضعاف عدد الأطفال في قارة أوروبا.

(٦) ظهور مصطلح الاقتصاد الفضي بقارتي آسيا وأوروبا.

(٧) انتشار العديد من الأمراض ببعض دول قارة آسيا.

٩ ما النتائج المترتبة على... ؟

(١) انحراط دول أوروبا في الحرب العالمية الثانية ١٩٣٩م : ١٩٤٥م (بالنسبة للتركيب النوعي).

(٢) اهتمام دول قارتي آسيا وأوروبا بصحة فئة صغار السن.

(٣) تمثل نسبة فئة سن العمل بقارقي آسيا وأوروبا نحو ثلثي السكان.

(٤) سعى دول قارقي آسيا وأوروبا إلى الاهتمام بفئة كبار السن.

(٥) قيام دولة باكستان بفرض اللغة الأردية كلغة رسمية في الجزء الشرقي منها.

دلل على صحة كل عبارة من العبارات الآتية :

(١) لدراسة خصائص السكان أهمية كبيرة لبناء المجتمع.

(٢) تهتم دول قارقي آسيا وأوروبا بفئة كبار السن.

(٣) اهتمام دول قارقي آسيا وأوروبا بتعليم كبار السن.

(٤) تعاني قارة آسيا من انتشار بعض الأمراض بها.

(٥) تؤثر الصراعات والحروب على انتشار الأمراض بقارة آسيا.

(٦) تبذل قارقي آسيا وأوروبا جهودًا عديدة للحد من انتشار الأمراض بهما.

(٧) تتنوع الحرف التراثية الموجودة بقارة أوروبا.

قارن بين : قارة آسيا، وقارة أوروبا ، من حيث :

• أهم اللغات .

• الأمراض الأكثر شيوعًا .

حدد أوجه الشبه والاختلاف بين : الهرم السكاني لكل من قارة آسيا ، وقارة أوروبا .

١٣ ماذا يحدث إذا ... ؟

(١) ارتفعت معدلات المواليد في قارة أوروبا بالنسبة للهرم السكاني بها.

(٢) اعترف سكان الجزء الشرقي من دولة باكستان باللغة الأردية كلغة رسمية للبلاد.

(٣) اهتمت جميع دول قارة آسيا بتوفير مياه شرب نقية.

١٤ حدد مصداقية كل عبارة من العبارات الآتية ، مع ذكر السبب في الحالتين :

(١) تضم قارة أوروبا عديد من اللغات ذات التأثير العالمي.

(٢) تتشابه نسبة الإنفاق العام على التعليم في جميع مناطق قارة آسيا.

(٣) تتقدم دول وسط وجنوب آسيا عن دول شرق آسيا في بعض الخصائص الصحية للسكان.

(٤) تساهم قارتي آسيا وأوروبا في الحد من انتشار الأمراض من خلال المبادرات العالمية.

(٥) تمثل الحرف التراثية جزءًا مهمًا من الهوية الثقافية لبعض الدول الآسيوية.

١٥ ما العلاقة بين ... ؟

(١) معدل المواليد بقارتي آسيا وأوروبا، وشكل الهرم السكاني لكل منهما.

(٢) الحرب العالمية الثانية، والتركيب النوعي لقارة أوروبا.

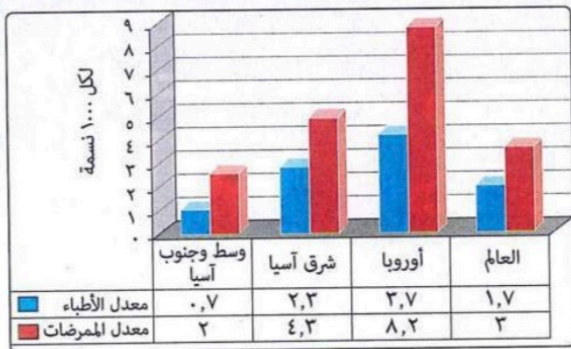
(٣) نسبة فئة منتصف الهرم السكاني، واقتصاد قارتي آسيا وأوروبا.

١٦ حدد :

(١) أحد أشهر العادات والتقاليد الراقية القديمة للشعب الإنجليزي بأوروبا.

(٢) أشهر الأكلات الوطنية في قارتي آسيا وأوروبا.

لاحظ الرسم البياني المقابل، ثم أجب عما يلي :



معدل الأطباء والممرضات بقارتي آسيا وأوروبا والعالم

(١) حدد المناطق التي تتفوق بها معدلات الأطباء والممرضات عن المعدلات العالمية.

.....

(٢) حدد المناطق التي تقل بها معدلات الأطباء والممرضات عن المعدلات العالمية.

.....

(٣) توقع أي المناطق يرتفع بها نسبة كبار السن.

.....

(٤) ما مقترحاتك لرفع معدلات الأطباء والممرضات في إقليم وسط وجنوب آسيا ؟

.....