

Taher

شروعات ڪمي

**QUIZZ**



**0597780788**

إذا كان عقرب الساعات يشير إلى السابعة أي ساعة تشير إليها بعد ٥٣ ساعة؟

أ

٧

د

١١

ج

١٢

ب

١٠

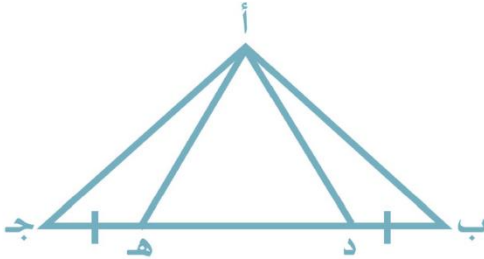
أ

أب ج مثلث فيه  $ب د = ه ج$  !  $د ه = ٢ ه ج$

قارن بين :

مساحة المثلث أ د ه

مساحة المثلث أب د + مساحة المثلث أ ه ج



٢

المعطيات غير	د	القيمتان	ج	القيمة الثانية	ب	القيمة الأولى	أ
كافية		متساويتان		أكبر		أكبر	

قارن بين :

$$\left( 3 \times \frac{0}{4} \right) \left( 4 \times \frac{0}{3} \right) \left( 7 \times \frac{4}{0} \right)$$

القيمة الثانية : ١٠٠

٣

أ	القيمة الأولى	ب	القيمة الثانية	ج	القيمتان	د	المعطيات غير
	أكبر		أكبر		متساويتان		كافية

في الشكل المقابل مستطيل ما نسبة مساحة المظلل إلي مساحة الشكل



كله .

ع

ثلاث أرباع

د

النصف

ج

الربع

ب

الثلث

أ



يوضح الرسم المشتركين في النادي الرياضي

من حيث المجددين والغير مجددين

في أي شهر كان الفرق بينهما أكبر؟

○

ربيع ثان

د

ربيع اول

ج

صفر

ب

محرم

أ

مستطيل مساحته ٩٨ م<sup>٢</sup> فإذا كان طوله ضعف عرضه أوجد طوله

٦

٧٢

د

١٤

ج

٣٦

ب

٥٦

أ

ينتج مصنع ٩٠٠٠ علبة في الأسبوع ما انتاج المصنع السنوي ؟

٧

٤٥٠٠٠٠٠

د

٤٥٠٠

ج


٤٥٠٠٠٠

ب

٤٥٠٠٠

أ





انتاج شركة مليون قطعة عام ٢٠٠٠ ويتضاعف كل ٥ سنوات كم مليون قطعة  
تنتج عام ٢٠٢٠؟

٩

١٦

د

٨

ج

٤

ب

٥

أ

١٠ ستة اعداد متتالية مجموع اخر ٣ منهم = ٣٢٤ ما مجموع اول ٣ اعداد؟

٣٢٠

د

٣١٥

ج

٣١٩

ب

٣٢١

أ

س - ص = ٥ ! س ص = ١٠ اوجد س + ص

||

٥٥

د

٦٥

ج

٤٥

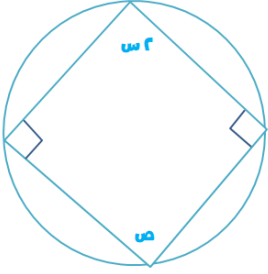
ب

٥

أ

Bakr Taher

س = ٣٥ اوجد ص



١٢

١٢٠

د

١١٠

ج

١٣٠

ب

١٠٠

أ

إذا كان ٣ ملاعق خميرة تكفي ٢٣ كعكة فكم ملعقة تصنع ١١٥ كعكة

١٣

IV

د

١٥

ج

١٠

ب

١٢

أ

Bakr Taher

<b>مع شخص ٣٠٠٠ هلة و ٥ ريال قارن بين :</b>							<b>١٤</b>
<b>القيمة الأولي : المبلغ الذي معه ! القيمة الثانية : ٤٠ ريال</b>							
<b>المعطيات غير</b>	<b>د</b>	<b>القيمتان</b>	<b>ج</b>	<b>القيمة الثانية</b>	<b>ب</b>	<b>القيمة الأولي</b>	<b>أ</b>
<b>كافية</b>		<b>متساويتان</b>		<b>أكبر</b>		<b>أكبر</b>	

شخص يمشي بسرعة ١,٦ كم / س لمدة ٤ ساعات ما المسافة التي قطعها  
بالكيلومتر؟

١٥

٩,٦

د

٦,٤

ج

٣,٢

ب

٤,٨

أ



قارن بين :

القيمة الأولى : حاصل ضرب الاعداد من -٢ إلى ٤ ما عدا الصفر

القيمة الثانية : حاصل ضرب الاعداد من -٥ إلى ٢ ما عدا الصفر

١٦

أ	القيمة الأولى	ب	القيمة الثانية	ج	القيمتان	د	المعطيات غير
	أكبر		أكبر		متساويتان		كافية

في العدد الدوري ٠,٠٩٧٣٤١٠٩٧٣٤ ما هو الرقم الذي ترتيبه ٤٥ يمين الفاصلة ؟

١٧

٤

د

٩

ج

٧

ب

٣

أ

خمسة اعداد موجبة متتالية متوسطها ٨ ما هو العدد الأصغر؟

١٨

٧

د

٤

ج

٥

ب

٦

أ

أ ب ج مثلث فيه أب = ٦ سم ؛ أ ج = ١٠ سم قارن بين :

ب ج ؛ ٣ سم

١٩

أ	ب	ج	د	المعطيات غير
القيمة الأولى	القيمة الثانية	القيمتان	المعطيات غير	كافية
أكبر	أكبر	متساويتان	د	كافية

مني لديها اختان الكبرى اكبر منها بست سنوات والصغرى اصغر منها بثلاث

سنوات ومجموع عمريهما ٥٧ سنة كم عمر مني ؟

٢٠

٣٣

د

٣٠

ج

٢٧

ب

٢٥

أ